



Express each number using tally marks.

1) 76 _____

2) 43 _____

3) 93 _____

4) 22 _____

5) 65 _____

6) 21 _____

7) 23 _____

8) 56 _____

9) 50 _____

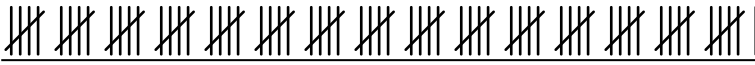




10) 27 _____

11) 51 _____

12) 7 _____



Express each number using tally marks.

1) 76 2) 43 3) 93 4) 22 5) 65 6) 21 7) 23 8) 56 9) 50 10) 27 11) 51 12) 7 